

# Château de Chamerolles

Promenade des parfums

CM1/  
CM2

Livret pédagogique  
Les jardins de Chamerolles  
du Moyen-Âge à la Renaissance

[WWW.CHATEAUCHAMEROLLES.FR](http://WWW.CHATEAUCHAMEROLLES.FR)



02 38 39 84 66

**Loiret**  
votre Département



[WWW.LOIRET.FR](http://WWW.LOIRET.FR)




## Bienvenue au château de Chamerolles !

→ Complète le texte à trous.

Le château de Chamerolles a été construit par le seigneur L \_\_\_\_\_  
d \_\_\_\_\_ L \_\_\_\_\_, entre 1500 et 1530, donc au \_\_\_\_\_ siècle, au tout début de la  
R \_\_\_\_\_, période qui suit le M \_\_\_\_\_ - Â \_\_\_\_\_.

→ Sur le dessin, entoure le pont-levis et colorie en bleu les douves !



→ Entoure les bonnes réponses :

Qu'est-ce qui a été utilisé pour décorer les façades de la cour ?

ARDOISE	BRIQUE	BÉTON
PIERRE	BOIS	VERRE

À Chamerolles, quelles sont les deux couleurs de ce matériau ?

VIOLET	JAUNE	NOIR
MARRON	ROUGE	BEIGE

## À la découverte des jardins

→ Complète le texte à trous avec les mots suivants :

XVI<sup>ème</sup> siècle – XX<sup>ème</sup> siècle – apparat – allées  
utiles – jardins – quadrillage – loisirs – carrés

Les jardins de Chamerolles ont été réaménagés à la fin du \_\_\_\_\_, selon ce qu'ils ont pu être lorsqu'ils furent créés à la fin du \_\_\_\_\_.

Les jardins sont composés de six \_\_\_\_\_. Ces carrés sont séparés les uns des autres par des \_\_\_\_\_, qui dessinent un \_\_\_\_\_ organisant les \_\_\_\_\_.

Les jardins de la Renaissance ont trois rôles :

- Ils sont \_\_\_\_\_ : ils doivent permettre de se nourrir et de se soigner, grâce à la culture de plantes.
- Ils servent aux \_\_\_\_\_ : on s'y promène, on y discute, on y joue et on y reçoit. Des fêtes sont données dans les jardins.
- Ils sont d'\_\_\_\_\_ : ils montrent le savoir-faire du jardinier et doivent être agréables à regarder. Il fallait qu'ils soient visibles depuis les salles de réception pour que le seigneur les montre à ses invités.

Les jardins sont entourés par des berceaux de bois recouverts de plantes grimpantes. Cela permet de se promener à l'ombre, à l'abri du soleil. Près des jardins, autour du château, se trouvent une forêt, un étang et des champs.

→ Qu'est-ce que l'on trouve d'utile au quotidien dans :

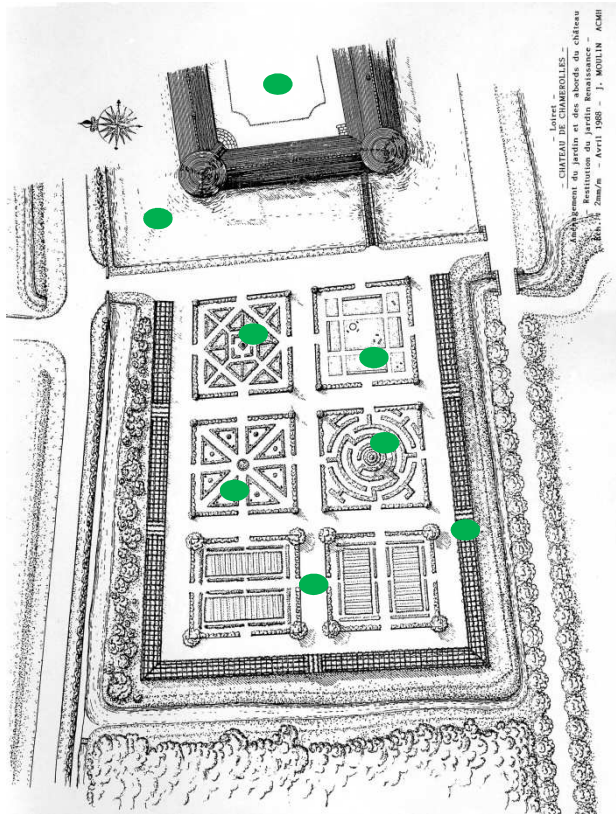
La forêt ? \_\_\_\_\_

L'étang ? \_\_\_\_\_

Les champs ? \_\_\_\_\_

→ Relie les éléments de la liste à leur emplacement :

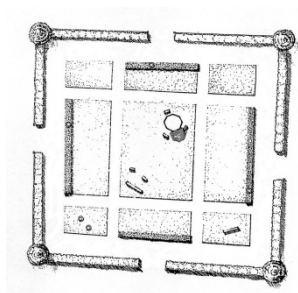
- Les douves ●
- La cour du château ●
- Les deux potagers ●
- Le labyrinthe ●
- Le préau ●
- Les berceaux ●
- Le carré de broderies ●
- Le carré de plantes rares ●



## Le préau

Dans le carré du préau, le seigneur et ses convives peuvent s'asseoir pour discuter, écouter de la musique, se reposer ou méditer. Il s'agit en quelque sorte d'un salon d'extérieur.

Le nom de « préau » vient des bancs recouverts de pelouse que l'on peut voir dans ce carré : ce sont des « prés hauts » !



→ *Plantes et fleurs ornent ce carré. Connais-tu la fonction des différentes parties d'une plante à fleur ? Complète le texte avec les mots suivants :*

tige – pétales – racine – fleur – fruits – feuilles – bourgeons

Une plante à fleurs est constituée de cinq parties distinctes :



- La \_\_\_\_\_ est souterraine. Elle sert à fixer la plante dans le sol et à y puiser l'eau et les aliments indispensables à la vie.
- La \_\_\_\_\_, ou le tronc, se développe dans l'air et porte les \_\_\_\_\_, les fleurs et les \_\_\_\_\_. C'est un organe de soutien qui sert également au transport de la sève.
- Les \_\_\_\_\_ captent la lumière du soleil, qui est nécessaire à la croissance de la plante. Elles lui permettent de respirer.
- La \_\_\_\_\_, formée de pétales (feuilles modifiées), renferme les organes reproducteurs : le pistil et les étamines.
- Le \_\_\_\_\_ naît de la fleur grâce à la chaleur et à la lumière.

## La symétrie du carré de broderies

Dans ce carré, les arbustes sont taillés et plantés de façon organisée. Ils créent des formes géométriques et la symétrie y est très importante. Ce carré est consacré au plaisir des yeux et met en valeur le savoir-faire des jardiniers.

***Le sais-tu ?*** L'art de tailler les arbres et les arbustes pour leur donner des formes particulières s'appelle l'art topiaire. Cet art est devenu très à la mode à la Renaissance !

→ Dessine un carré « Renaissance » dans l'espace libre ci-dessous. N'oublie pas de bien respecter la symétrie ! Tu peux t'inspirer si tu le souhaites du carré de broderies des jardins de Chamerolles.



## Le carré des plantes rares

À la Renaissance, navigateurs et explorateurs découvrent le Nouveau Monde, et avec lui de nouvelles plantes qu'ils rapportent avec eux. Ce carré de plantes rares témoigne de l'intérêt que l'on avait alors pour les plantes exotiques. On les collectionnait !

→ À quelle pièce du château ce carré peut-il être comparé ? Entoure la bonne réponse :

La cuisine

Le laboratoire

Le cabinet de curiosités

→ Ce carré est le seul à posséder son propre puits ! Pourquoi ?

Une grande source d'eau se trouve juste en dessous

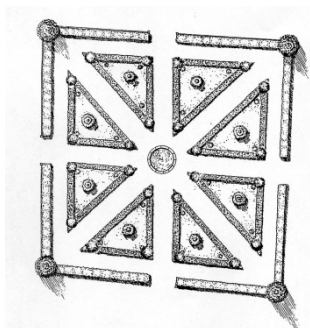
Ses plantes avaient du mal à s'acclimater et étaient fragiles

Ses plantes coûtaient très cher car elles venaient de loin

→ Devine quel est le mot manquant :


On trouvait dans ce carré des plantes qui semblaient curieuses à la Renaissance, mais que l'on mange aujourd'hui !

C'est le cas de la t\_\_\_\_\_. Lors de son arrivée en Europe, elle ne fut pas considérée comme comestible à cause de sa couleur rouge. On avait peur que ce soit du poison ! On ne la trouvait donc pas au potager mais dans ce carré où on l'appréciait comme plante ornementale.





## Labyrinthe



Les allées du labyrinthe conduisent le promeneur jusqu'à un hêtre central. À la Renaissance, le labyrinthe devient ludique. Les enfants viennent y jouer et on leur raconte des légendes et des contes.

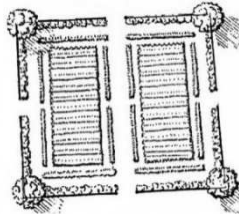
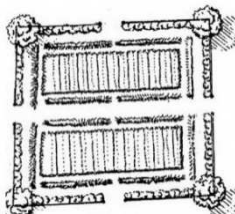
## Légumes et potagers

Un des rôles des jardins est de nourrir les habitants du château. Pour cela, les deux carrés du potager sont bordés d'arbustes et d'arbres fruitiers. On y cultive des légumes et des plantes aromatiques. Mais, selon les saisons, la terre ne produit pas les mêmes fruits et légumes !

→ *Écris les fruits et légumes suivants dans la bonne colonne :*

carotte – raisin – asperge – artichaut  
poireau – fraise – framboise – pomme

PRINTEMPS	ÉTÉ	AUTOMNE	HIVER
-	-	-	-
-	-	-	-



Handwriting practice lines consisting of 20 horizontal rows. Each row is defined by a solid top line, a dashed midline, and a solid bottom line.





## Renseignements et réservations

Château de Chamerolles  
45170 CHILLEURS-AUX-BOIS

Tél. : 02 38 39 84 66

Fax : 02 38 39 45 59

[chateau.chamerolles@loiret.fr](mailto:chateau.chamerolles@loiret.fr)

[www.chateauchamerolles.fr](http://www.chateauchamerolles.fr)



Département du Loiret  
45945 Orléans  
Téléphone 02 38 25 45 45  
[loiret@loiret.fr](mailto:loiret@loiret.fr) • [www.loiret.fr](http://www.loiret.fr)